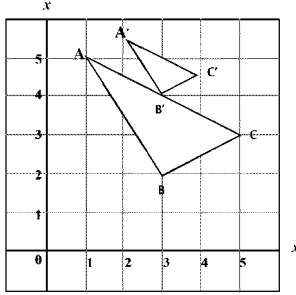


Time: 10 Minutes	Paper Math 8 (T-1)	Total Marks: 10
5th Month, 4th Week, 3rd Day	Exercise 4.6 Complete	

☆ Answer the following questions. درج ذیل سوالات کے جواب دیں۔

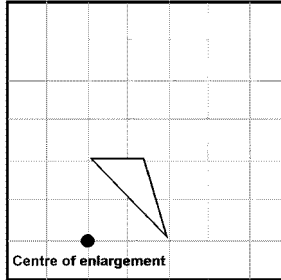
- (i) Find scale factor and centre of enlargement, Triangle A'B'C' has been enlarged to make triangle ABC. (5)

سکیل فیکٹر اور مرکز کے پھیلاؤ معلوم کریں۔ مثلث A'B'C' کو مثلث ABC سے ملانے کے لیے بڑا کیا گیا ہے۔



- (ii) Enlarge the shaded shape with scale factor 3 about the point. (5)

سایہ دار شکل نقطہ پر موجود سکیل فیکٹر 3 کے ساتھ توسیع کریں۔

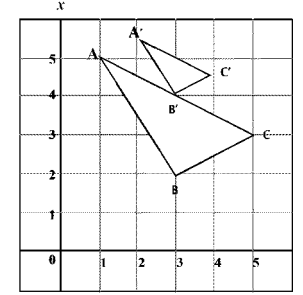


Time: 10 Minutes	Paper Math 8 (T-1)	Total Marks: 10
5th Month, 4th Week, 3rd Day	Exercise 4.6 Complete	

☆ Answer the following questions. درج ذیل سوالات کے جواب دیں۔

- (i) Find scale factor and centre of enlargement, Triangle A'B'C' has been enlarged to make triangle ABC. (5)

سکیل فیکٹر اور مرکز کے پھیلاؤ معلوم کریں۔ مثلث A'B'C' کو مثلث ABC سے ملانے کے لیے بڑا کیا گیا ہے۔



- (ii) Enlarge the shaded shape with scale factor 3 about the point. (5)

سایہ دار شکل نقطہ پر موجود سکیل فیکٹر 3 کے ساتھ توسیع کریں۔

